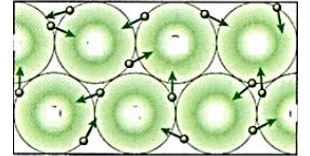


I Le courant électrique

1) Les porteurs de charge

Les milieux conducteurs contiennent des particules chargées libres de se déplacer appelées Ce sont :

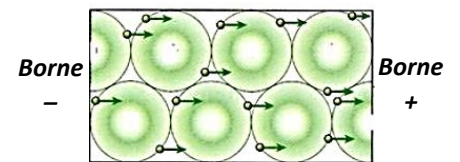
- les dans les métaux
- les (cations et anions) dans les solutions conductrices.



Electrons libres dans un métal

En l'absence de générateur, les porteurs de charge ont un (désordonné).

Quand on soumet un métal ou une solution à une tension électrique, les porteurs de charge adoptent un et constituent le



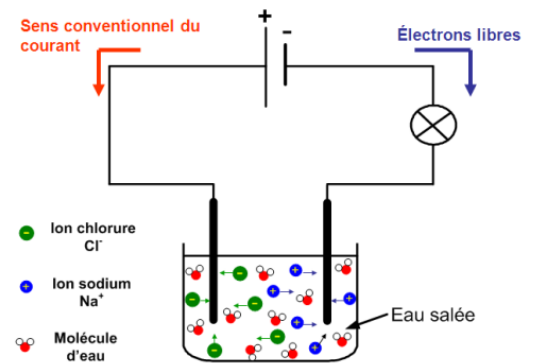
Electrons libres soumis à une tension

Les porteurs de charge se déplacent tous dans la, vers la même borne (en moyenne) dans le milieu conducteur.

Pour connaître le sens de déplacement : « les opposés s'attirent » :

- Les **électrons libres (négatifs)** dans les fils métalliques se dirigent vers la **borne** du générateur.
- Les **anions** dans les solutions se dirigent vers la borne de l'électrolyseur reliée à la **borne** du générateur.
- Les **cations** dans les solutions se dirigent vers la borne de l'électrolyseur reliée à la **borne** du générateur.

Attention : Les ions restent en, les électrons libres restent (chacun chez soi).



Le est celui du déplacement des porteurs de charges positives : à l'extérieur du générateur.

Rappel : La **charge électrique** se note « » et se mesure en (C). La plus petite charge positive existante est appelée **charge élémentaire**. Elle est notée « e » et vaut $e = 1,6 \times 10^{-19}$ C.

La charge électrique d'un électron est égale à l'opposé de la charge élémentaire : $Q_{\text{électron}} = -e = -1,6 \times 10^{-19}$ C.

Exercice : Une charge électrique $Q = -15$ C traverse un fil pendant 10 s. Calculer le nombre d'électrons transportant cette charge.

.....

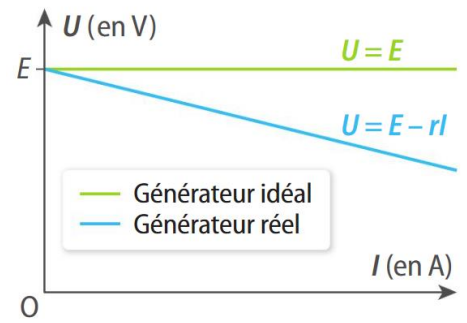
2) Intensité du courant électrique

Le courant électrique est d'autant plus intense que les porteurs de charge sont nombreux ou rapides. L'intensité du courant est donc liée traversant un conducteur.

Pour faire une comparaison, le débit d'eau correspond à la quantité d'eau passant dans une canalisation par unité de temps. Par exemple, le débit d'un tuyau d'arrosage est de l'ordre de 20 L par minute, son débit vaut donc

La tension E est également appelée du générateur. C'est la tension aux bornes du générateur quand celui-ci ne débite aucun courant ($I = 0$), en ne branchant aucun dipôle à ses bornes. On a alors

L'existence d'une a des conséquences sur le fonctionnement de la source réelle.



Exercice :

Une batterie d'accumulateurs de voiture a une tension à vide $E = 12,0 \text{ V}$ et une résistance interne $r = 10,0 \text{ m}\Omega$.

1) Ecrire l'équation de la caractéristique de cette source réelle de tension.

2) Calculer la tension aux bornes de cette batterie lorsqu'elle est traversée par un courant d'intensité $25,0 \text{ A}$.

III Puissance et énergie

1) Puissance d'un dipôle








La puissance est une grandeur indiquant l'aptitude d'un système à convertir rapidement de l'énergie.

La puissance électrique P reçue ou fournie par un dipôle est définie par la relation :

- P : puissance reçue ou fournie en (W)
- U : tension aux bornes du dipôle en (V)
- I : intensité du courant électrique qui traverse le dipôle en

Remarque : Certains multiples sont parfois utilisés : le (1 MW = W), le (1 GW = W) et le (1 TW = W).

Quelques ordres de grandeur de puissances fournies ou reçues :

Puissance électrique en entrée (W)					Puissance électrique en sortie (W)	
Calculatrice	Smartphone	Lampe à LED	Ordinateur	Radiateur	Éolienne	Centrale nucléaire
						
10^{-3}	10^0	10^1	10^2	10^3	$10^5 - 10^6$	10^9

Exercice : Le microprocesseur d'un smartphone est traversé par un courant d'intensité 150 mA . La tension électrique à ses bornes vaut $5,0 \text{ V}$. Calculer la puissance du microprocesseur.

2) Cas des conducteurs ohmiques

Si on associe la définition de la puissance ($P = U I$) et la loi d'Ohm aux bornes d'un conducteur ohmique ($U = R I$). On obtient la relation :




La puissance reçue par un conducteur ohmique est donnée par la relation :

- P : puissance reçue par le conducteur ohmique en (W)
- R : résistance du conducteur ohmique en (Ω)
- I : intensité du courant qui traverse le conducteur ohmique en

Au niveau microscopique, les interactions entre les électrons libres d'un fil et les noyaux immobiles peuvent être modélisées par une force de frottement. , d'autant plus que le courant électrique est

**Cette puissance reçue est dissipée sous forme de (.....
.....). C'est**



Même les fils de connexion ont une résistance bien qu'elle soit très faible. Ainsi, tout circuit électrique produit de la chaleur lors de son fonctionnement par effet Joule.

Le nom de ce phénomène provient du physicien anglais



Lorsque l'on veut réduire au minimum l'effet Joule pour éviter de perdre de l'énergie, le fil électrique doit être d'autant plus épais que l'intensité du courant qui le traverse est importante. Il existe donc des fils électriques de différentes épaisseurs.

À cause de l'effet Joule, lorsque l'on fait passer un courant de grande intensité dans un minuscule filament, ce dernier devient très chaud. Il peut devenir incandescent, comme les fils d'un grille-pain. Cette propriété est utilisée pour fabriquer les ampoules à incandescence.



3) Energie électrique

L'énergie reçue ou fournie par un appareil électrique est liée à la durée Δt de fonctionnement et à la puissance P de l'appareil :

E : énergie reçue ou fournie en (J)
P : puissance en (W)
 Δt : durée en (s)

Remarque : On utilise souvent une unité (qui n'est pas une unité légale) : le (Wh) ou le (1 kWh = 1000 Wh). On obtient cette unité avec la puissance en W ou kW et la durée en heure.

Un wattheure (Wh) est l'énergie consommée par un appareil de puissance $P = 1$ W pendant 1 heure (= 3 600 s)

Donc : $E = P \Delta t =$

1 kWh =

1 Wh =

1 kWh =

Exercices :

1) Calculer l'énergie consommée, en joule, lorsque l'on passe l'aspirateur de puissance 1200 W pendant 30 minutes.

.....

2) Calculer l'énergie dissipée par effet Joule en 10 s par un conducteur ohmique de 100 Ω alimenté par un courant de 60 mA.

.....

4) Bilan de puissance dans un circuit

Soit un circuit composé d'un générateur et de plusieurs dipôles D_1 , D_2 , D_3 et D_4 . Comme l'énergie totale du circuit se conserve, on peut établir une relation entre l'énergie délivrée par le générateur et les énergies converties par les différents dipôles passifs (résistance, lampe, etc.) contenus dans le circuit.

.....

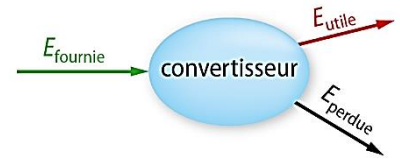
En divisant cette relation par la durée Δt , on obtient une relation entre les différentes puissances, appelée

IV Rendement d'un convertisseur

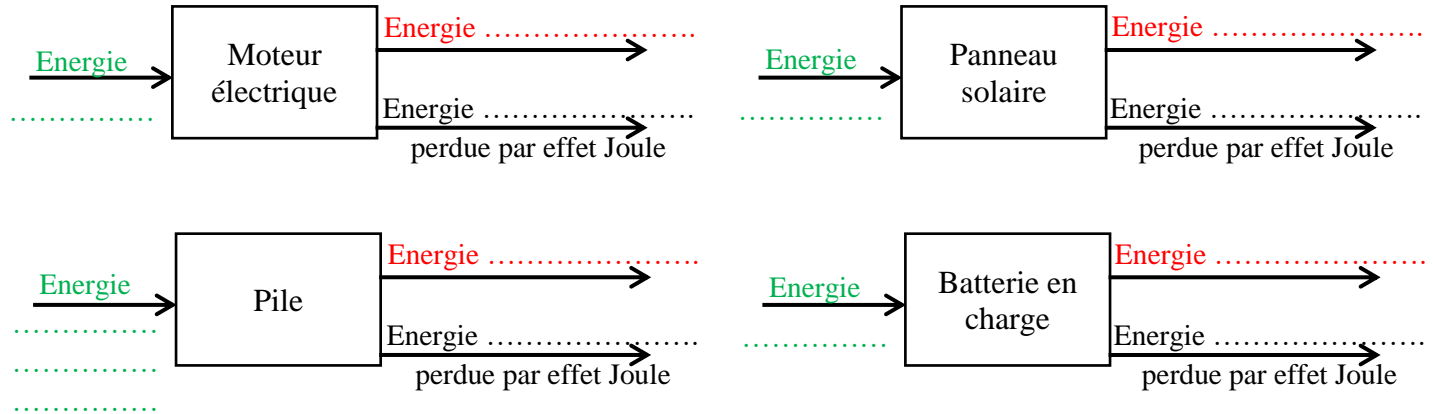
Contrairement à ce qui est dit dans le langage courant, Un dipôle reçoit une forme d'énergie et la convertit en une autre forme. Il est appelé Il existe différentes formes d'énergie : (liée au mouvement), ou

L'énergie que l'on souhaite obtenir (pour s'éclairer, se chauffer, se déplacer, ...) est

Une conversion peut s'accompagner de pertes, c'est-à-dire d'une conversion en une forme d'énergie non voulue, appelée



Exemples :



Lors d'une conversion, on peut raisonner sur l'énergie ou la puissance, liées par la durée du phénomène.

Le rendement de la conversion, noté η (lettre grecque êta), d'un convertisseur est défini par :

Convertisseur	Rendement
Panneau photovoltaïque	15 %
Centrale nucléaire	33 %
DEL	80 %
Lampe à incandescence	5 %
Radiateur	100 %
Voiture électrique	De 50 à 65 %

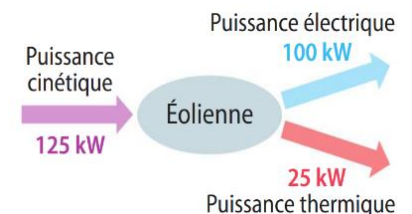
Doc. 11. Exemples de rendements.

Remarques :

- Les deux énergies ou les deux puissances doivent être dans la même unité.
- Le rendement a toujours une valeur comprise entre 0 et 1. Il s'exprime généralement en %.
- L'énergie perdue est très souvent de l'énergie thermique dissipée par effet Joule.

Exercices :

1) Une éolienne convertit l'énergie cinétique du vent en énergie électrique (utile) et en énergie thermique (non voulue). Calculer son rendement.



2) Un moteur électrique est soumis à une tension de 4,5 V. Il est traversé par un courant d'intensité $I = 0,050$ A. Il fournit une puissance mécanique $P = 0,20$ W.

a) Calculer la puissance électrique fournie au moteur.

b) Calculer le rendement du moteur électrique.

